

Prénom: _____

Évaluation : Reasonner à l'aide de concepts mathématiques

3e étape



Ta visite du zoo

Après le thème des animaux, tu connais plein de nouvelles informations. Aujourd'hui, tu participes à une visite du zoo. À chaque arrêt, tu auras une épreuve mathématique à réaliser. Tu rencontreras différents personnages qui te mettront au défi. Prends bien ton temps, et bonne chance!



Gilda la girafe



Zaphir le zèbre



L'animatrice



Pogo le phoque



Papaye le panda



Osso Bucco l'orang outan



Croc-en-jambe le crocodile

Question 1 : les zèbres

⇒ Regroupe les zèbres en groupe de 10.

⇒ Compte combien il y a de zèbres en tout.




Réponse: Il y a _____ zèbres.


Question 2 : la savane




Place les quantités d'animaux en ordre croissant.




46




35



99



111





64

Réponse:


Question 3 : les hippopotames


Écris les nombres oubliés sous chaque hippopotame.






80







82




153






155



Question 4


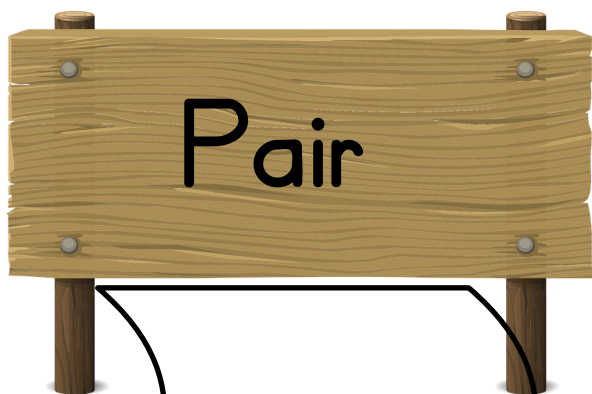





Pour la collation, l'animatrice regarde ce que les amis ont apporté.
Elle a fait un graphique avec leurs réponses.



- A) Quelle est la collation **la plus populaire**? _____
- B) **Combien de personnes** aiment la pomme? _____
- C) Quelle est la collation **la moins apportée**? _____
- D) **Combien de personnes** mangent une collation? _____

Question 5 : Le sentier des singes

Remplace les roches dans le bon sentier.



Question 6 : les oeufs de crocodile

Place les oeufs de crocodile en ordre décroissant.





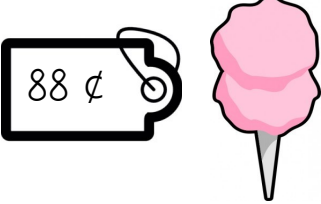

Réponse:

--	--	--	--	--



Question 7 : les prix des desserts

Illustre les sous dont tu auras besoin pour payer chaque aliment.

 <p>A price tag with the value "1,08 \$" is attached to a red and white striped popcorn bucket. The bucket has a yellow label that says "POP CORN".</p>	
 <p>A price tag with the value "1,55 \$" is attached to a blue ice cream cup with a red lid and a blue ring. A snowflake symbol is on the cup.</p>	
 <p>A price tag with the value "88 ¢" is attached to a pink cotton candy on a stick.</p>	
 <p>A price tag with the value "95 ¢" is attached to a chocolate bar in a blue wrapper with yellow and red accents. The wrapper has the word "CHOCOLATE" visible.</p>	

Question 8 : les pandas

Les nombres dans les chemins ont été effacés. Poursuis les chemins en respectant la suite de chacun.

Chemin 1

Bonds de 2



8	10						22
---	----	--	--	--	--	--	----

Chemin 2

Bonds de 5

50	55						85
----	----	--	--	--	--	--	----

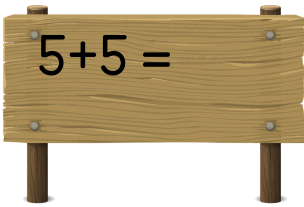
Chemin 3

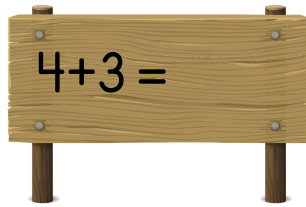
Bonds de 10

60	70						130
----	----	--	--	--	--	--	-----

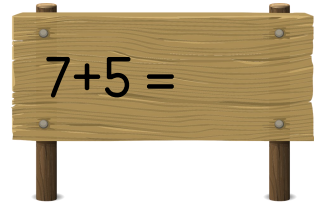
Question 9

Sur les sentiers, tu dois les faire les additions afin de continuer d'avancer.

 $5+5 =$

 $4+3 =$

 $6+2 =$

 $7+5 =$

Question 10

Pour ouvrir la porte, tu dois réussir les soustractions.

$12-4 =$

$11-6 =$

$8-3 =$

$9-2 =$

Question 11

Lors du spectacle des dauphins, la gardienne des dauphins leur donne 3 seaux qui contiennent chacun 4 poissons.

Combien y a-t-il de poissons en tout?



Traces de ma démarche

Équation: _____

Réponse: Il y a poissons

Question 12: les phoques

Tu dois refaire les équations qui sont inscrites sur les seaux.

Choisis le symbole approprié ($>$, $<$, $=$) et écris-le dans le seau.

A) 25



25

B) 38



29

C) 55



68

D) 43



34

E) 71




81



Question 13: les pieuvres

Utilise les étoiles de mer pour mesurer la pieuvre.







La pieuvre mesure

étoiles de mer.



Question 14: le monde marin

Mesure les hippocampes suivants avec l'aide des cubes.

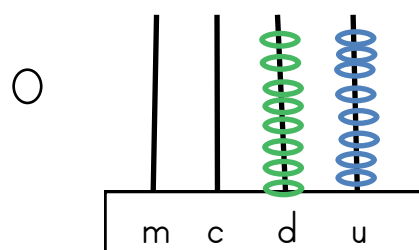


Question 15: les souvenirs

Ta visite au zoo est terminée. Il te reste des sous pour un souvenir. Relis les représentations aux bons objets.



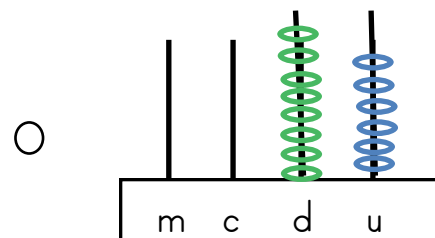
35¢



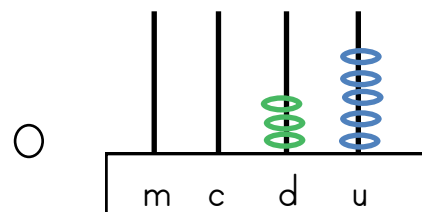
62¢



99¢



71¢



86¢

